







Несмотря на географическую близость и исторически тесные связи между тремя странами, в каждой из них сформировалась самобытная культура, уникальность которой нашла яркое отражение в национальных костюмах и кухне.

Задание 4. Поставьте в соответствие национальные костюмы и блюда национальной кухни. (3 балла)

А) Латвия, Б) Литва, В) Эстония

А Б В

		
		
Цеппелины - крупные картофельные клецки с различными начинками	Клопс - бифштекс со свинины или говядины под необычным луковым соусом	Картулипорс — свинина, запечённая в картофельном пюре
4	5	6

Всемирный банк классифицирует экономику стран Балтии как экономику с высоким уровнем дохода. После 2009 темпы роста экономики снизились, но все еще обеспечивают высокий уровень жизни.

Задание 5. Выполните SWOT-анализ экономики стран Балтии. (6 баллов)

S – сильные стороны	W – слабые стороны

Как изменился грузооборот портов в течение 2009-2017 гг.? (1 балл)

Назовите причины наблюдаемых изменений. (1 балл)

Чем объясняется рост грузооборота Клайпеды в этот промежуток времени? (1 балл)

Какие изменения в структуре грузов / работе портов / ориентации на рынки вы можете предложить для изменения ситуации? Ответ обоснуйте. (2 балла)